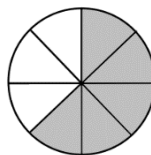


Vārds	Uzvārds	Skola

Iestājsāmenu darbs matemātikā 7. klasei.

1. uzdevums. (3 punkti) Uzraksti skaitli, kas atbilst iekrāsotajai daļai!

a) _____

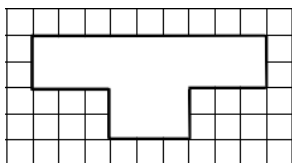


Iekrāso dotajās figūrās atbilstošo daļu

b) $\frac{3}{7}$



c) $\frac{5}{12}$

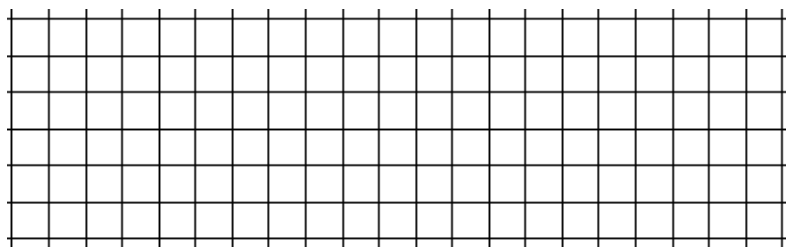
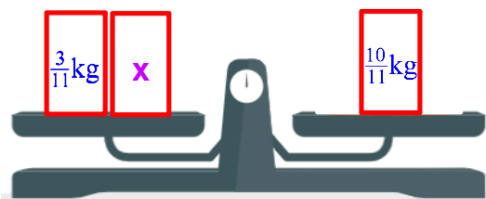


2. uzdevums. (5 punkti) Aprēķini:

$\frac{3}{8} - \frac{7}{12}$	
$-2,8 \cdot \left(-\frac{5}{14}\right)$	
$-5\frac{4}{9} + \frac{11}{18}$	
$-2,4 - \frac{2}{9}$	
$0,72 : (-0,3)$	

3. uzdevums. (2 punkti) Zīmējumā attēlotie svāri ir līdzsvarā. Aprēķini priekšmeta x masu.

Pamato ar aprēķiniem!



4. uzdevums. (2 punkti) Attēlo dotos skaitļus: $-2,5$ un $2\frac{3}{4}$ uz skaitļu ass!

